

Vierecke beschreiben

1

Untersuche die Vierecke genau und beschreibe sie jeweils in ein paar Sätzen. Gehe in deiner Beschreibung auf die Längen der Seiten, rechte Winkel und parallele Seiten ein. Du kannst die rechten Winkel und parallelen Seiten auch einzeichnen und farbig markieren.

Erinnerung:



gegenüberliegende Seiten
berühren sich nicht



angrenzende Seiten
berühren sich in einer
Ecke

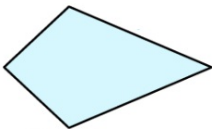


Rechteck

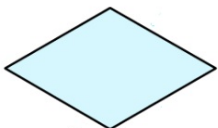
Das Rechteck hat vier rechte Winkel. Die gegenüberliegenden Seiten sind jeweils gleich lang und parallel.




Quadrat



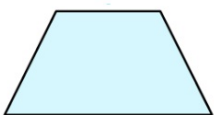
Drachen



Raute



Parallelo-
gramm



Trapez