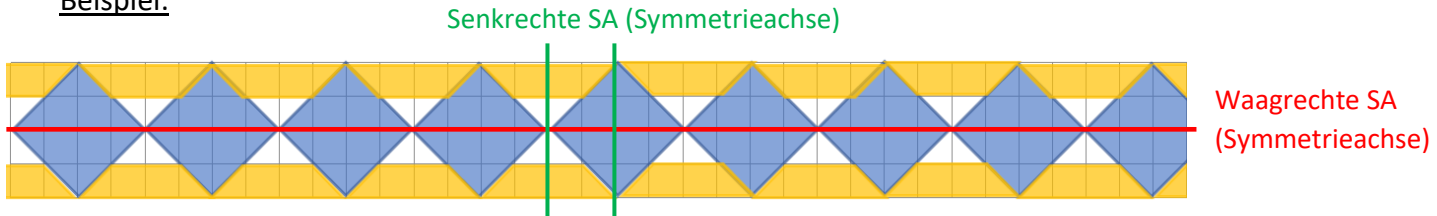


Bandornamente untersuchen

- 1 Führe die die folgenden Bandornamente in beide Richtungen fort und untersuche sie. Welche bekannten Vierecke kannst du entdecken? Sind die Bandornamente achsensymmetrisch?

Beispiel:

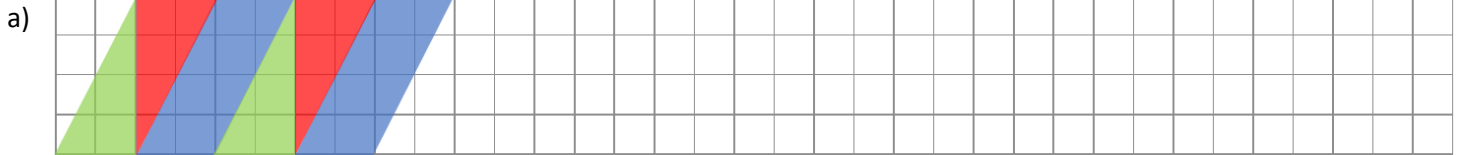


Gefundene Vierecke: Quadrat, Trapez

Achsensymmetrisch: wagrechte Symmetrieachse

Senkrechte Symmetrieachse


Hinweis: da ein Bandornament nach links und rechts unendlich lang ist können die senkrechten SA zwischen und durch alle Quadrate gezeichnet werden. Es reicht jedoch jeweils ein Beispiel.



Gefundene Vierecke: _____

Achsensymmetrisch: wagrechte Symmetrieachse

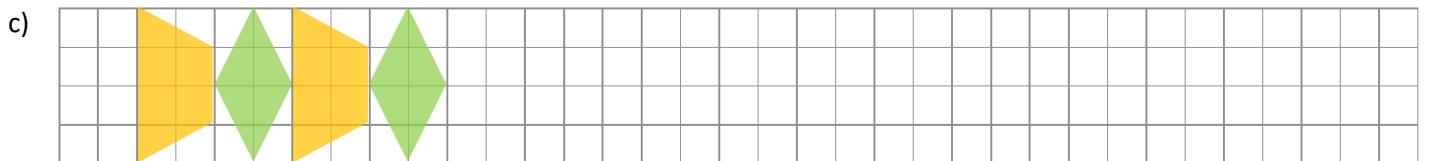
Senkrechte Symmetrieachse



Gefundene Vierecke: _____

Achsensymmetrisch: wagrechte Symmetrieachse

Senkrechte Symmetrieachse



Gefundene Vierecke: _____

Achsensymmetrisch: wagrechte Symmetrieachse

Senkrechte Symmetrieachse